


①

Maélys a 8 perles à son collier. 3 sont violettes. Combien sont violettes ? Aide-toi du dessin pour répondre.

Complète le modèle en barre correspondant.




--	--	--	--	--	--	--	--

..... perles sont violettes.

Nathan est sur la 2^e case. Il lance le dé et arrive sur la 6^e case.

Quel est le chiffre apparu sur le dé ? Aide-toi du dessin pour répondre.

Complète le modèle en barre correspondant.



--	--	--	--	--	--

Le chiffre sur le dé est


La maîtresse a 7 billes dans le sac. Elle en prend 3.

Combien en reste-t-il dans le sac ? Aide-toi du dessin pour répondre.

Complète le modèle en barre correspondant.



--	--	--	--	--	--

 L'écureuil a caché 3 noisettes hier et 3 de plus aujourd'hui.
Combien en a-t-il caché en tout ?




Calcul :

Il en a caché

 Le dragon a 2 épines orange et 5.
Combien en a-t-il en tout ?

Calcul :

Il en a en tout.

 Noah a lu 3 livres sur les chevaliers et 5 sur les dragons.
Combien a-t-il lu de livres en tout ?

Calcul :