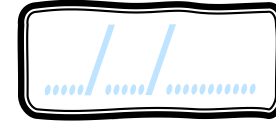


Calcul

CEI



PRÉNOM :



<https://laclassebleue.fr/>

① Effectue ces additions.

		2	7	
		+	3	1
<hr/>				

		3	6	
		+	4	7
<hr/>				

		5	1	
		+	2	9
<hr/>				

		4	3	
		+	1	8
<hr/>				

		6	7	
		+	2	5
<hr/>				



② Pose et effectue ces additions.

		54	+	22	
--	--	----	---	----	--

		42	+	29	
--	--	----	---	----	--

		36	+	54	
--	--	----	---	----	--

		75	+	16	
--	--	----	---	----	--

		17	+	48	
--	--	----	---	----	--



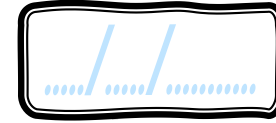
③ Résous ce problème.

Les classes de l'école comptent 56 filles et 42 garçons. Combien d'élèves y a-t-il dans l'école ?


Calcul / addition posée (Nombres à 2 chiffres)

Calcul

CEI



PRÉNOM :



<https://laclassobleue.fr/>

① Effectue ces additions.

		2	7	
		+	3	1
<hr/>				

		3	6	
		+	4	7
<hr/>				

		5	1	
		+	2	9
<hr/>				

		4	3	
		+	1	8
<hr/>				

		6	7	
		+	2	5
<hr/>				



② Pose et effectue ces additions.

54 + 22

42 + 29

36 + 54

75 + 16

17 + 48



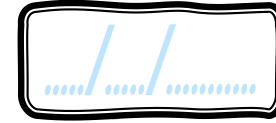
③ Résous ce problème.

Les classes de l'école comptent 56 filles et 42 garçons. Combien d'élèves y a-t-il dans l'école ?

Calcul / addition posée (Nombres à 2 chiffres)

Calcul

CEI



PRÉNOM :



<https://laclassebleue.fr/>

① Effectue ces additions.

$\begin{array}{r} 35 \\ + 19 \\ \hline \end{array}$	$\begin{array}{r} 17 \\ + 75 \\ \hline \end{array}$	$\begin{array}{r} 62 \\ + 34 \\ \hline \end{array}$	$\begin{array}{r} 49 \\ + 28 \\ \hline \end{array}$	$\begin{array}{r} 59 \\ + 16 \\ \hline \end{array}$
---	---	---	---	---



② Pose et effectue ces additions.

$44 + 39$	$16 + 26$	$58 + 9$	$82 + 27$	$35 + 47$

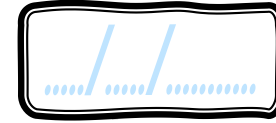


③ Résous ce problème.

Manon a 14 ans, sa tante Louise a 29 ans de plus qu'elle. Quel âge a la tante de Manon ?

Calcul

CEI



PRÉNOM :



<https://laclassobleue.fr/>

① Effectue ces additions.

3 5	1 7	6 2	4 9	5 9
+ 1 9	+ 7 5	+ 3 4	+ 2 8	+ 1 6
-----	-----	-----	-----	-----



② Pose et effectue ces additions.

44 + 39	16 + 26	58 + 9	82 + 27	35 + 47



③ Résous ce problème.

Manon a 14 ans, sa tante Louise a 29 ans de plus qu'elle. Quel âge a la tante de Manon ?

Calcul / addition posée (Nombres à 2 chiffres)

Calcul

CEI




PRÉNOM :



<https://laclassobleue.fr/>

① Effectue ces additions.



6 1	5 4	8 7	9 2	3 6
+ 7 4	+ 3 0	+ 4 5	+ 6 9	+ 5 5
-----	-----	-----	-----	-----

② Pose et effectue ces additions.

8 + 51 + 14	63 + 11	75 + 48	34 + 5 + 57	23 + 68



③ Résous ce problème.

Le parking de la gare compte 72 places et celui de la mairie 54. **Combien de places** y a-t-il en tout ?

Calcul / addition posée (Nombres à 2 chiffres)

Calcul

CEI



...../...../.....

PRÉNOM :



<https://laclassobleue.fr/>

① Effectue ces additions.



		6	1	
		+	7	4
<hr/>				

		5	4	
		+	3	0
<hr/>				

		8	7	
		+	4	5
<hr/>				

		9	2	
		+	6	9
<hr/>				

		3	6	
		+	5	5
<hr/>				

② Pose et effectue ces additions.

8 + 51 + 14

63 + 11

75 + 48

34 + 5 + 57

23 + 68



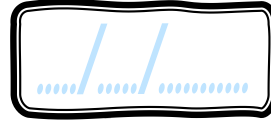

③ Résous ce problème.

Le parking de la gare compte 72 places et celui de la mairie 54. Combien de places y a-t-il en tout ?


Calcul / addition posée (Nombres à 2 chiffres)

Calcul

CEI

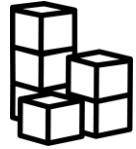


PRÉNOM :



<https://laclassobleue.fr/>

① Effectue ces additions.



		4	2	
		+	1	5
<hr/>				

		7	9	
		+	2	4
<hr/>				

		3	8	
		+	2	7
<hr/>				

		2	7	
		+	5	9
<hr/>				

		1	5	
		+	4	7
<hr/>				

② Pose et effectue ces additions.

49 + 33

57 + 41 + 8

46 + 87

36 + 2 + 25

48 + 76



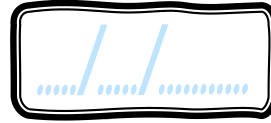
③ Résous ce problème.

Charlotte a acheté un bureau à 54 € et une chaise à 28 €. Quelle somme a-t-elle dépensée ?

Calcul / addition posée (Nombres à 2 chiffres)

Calcul

CEI




PRÉNOM :



<https://laclassobleue.fr/>

① Effectue ces additions.



		4	2	
		+	1	5
<hr/>				

		7	9	
		+	2	4
<hr/>				

		3	8	
		+	2	7
<hr/>				

		2	7	
		+	5	9
<hr/>				

		1	5	
		+	4	7
<hr/>				

② Pose et effectue ces additions.

49 + 33

57 + 41 + 8

46 + 87

36 + 2 + 25

48 + 76



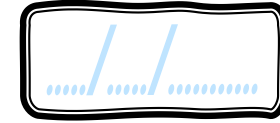

③ Résous ce problème.

Charlotte a acheté un bureau à 54 € et une chaise à 28 €. Quelle somme a-t-elle dépensée ?


Calcul / addition posée (Nombres à 2 chiffres)

Calcul

CE1



PRÉNOM :



<https://laclassobleue.fr/>

① Effectue ces additions.



		2	8	
		+	6	5
<hr/>				

		3	9	
		+	1	7
<hr/>				

		7	5	
		+	6	3
<hr/>				

		1	6	
		+	4	8
<hr/>				

		3	4	
		+	4	5
<hr/>				

② Pose et effectue ces additions.

85 + 23

8 + 57 + 4

26 + 98

47 + 26 + 8

94 + 57



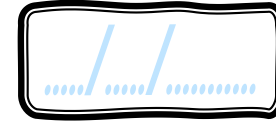

③ Résous ce problème.

Noa a cueilli 47 cerises. « J'en ai 39 de plus ! » répond Lou. Combien de cerises Lou a-t-elle cueillies ?

Calcul / addition posée (Nombres à 2 chiffres)

Calcul

CE1



PRÉNOM :



<https://laclassobleue.fr/>

① Effectue ces additions.



		2	8	
		+	6	5
<hr/>				

		3	9	
		+	1	7
<hr/>				

		7	5	
		+	6	3
<hr/>				

		1	6	
		+	4	8
<hr/>				

		3	4	
		+	4	5
<hr/>				

② Pose et effectue ces additions.

85 + 23

8 + 57 + 4

26 + 98

47 + 26 + 8

94 + 57



③ Résous ce problème.

Noa a cueilli 47 cerises. « J'en ai 39 de plus ! » répond Lou. **Combien de cerises** Lou a-t-elle cueillies ?

Calcul / addition posée (Nombres à 2 chiffres)