

avoir mal

« Souffres-tu des yeux au point de ne pouvoir supporter la lumière du jour ? demanda le prince.

— Oh non, répondit l'homme, c'est que j'ai le regard trop perçant. Dès qu'il se pose sur quelque chose, il le fait éclater. Mais si je puis vous être utile, j'entrerai volontiers à votre service.

— Suis-moi, **Œil Brise-Tout** », dit le prince.

trembler de froid


Tous les cinq se remirent en route et trouverent bientôt un homme qui grelottait de froid en plein soleil ; tout son corps était secoué de tremblements.

chauffer très fort

« Mais comment fais-tu donc pour avoir si froid quand le soleil tape si fort ?

avoir du mal à respirer à cause de la chaleur
extrême
être gelé, paralysé par le froid

— C'est que je ne suis pas comme tout le monde, lui répondit **Chaud Froid**. Plus il fait chaud, plus je grelotte ; et plus il fait froid, plus j'étouffe. Au beau milieu de la glace, je suffoque, et sous une chaleur torride, je suis transi de froid.




— Tu es un drôle de bonhomme ! dit le prince. Si tu veux entrer à mon service, j'accepte ! »
Puis ils rencontrèrent un gaillard qui tendait le cou, roulait des yeux et arrivait à voir par-dessus les collines.
« Que regardes-tu si attentivement ? demanda le prince.



— J'ai de si bons yeux, lui répondit Œil Voir-Tout, que je peux voir par-dessus monts, plaines et forêts, partout d'un bout à l'autre du monde.
— Il me manquait un gaillard de ton espèce, dit le prince. Viens donc avec moi, si cela te tente. »
Suivi de ses six serviteurs, le prince

Être tenté :
avoir envie



Les six serviteurs p 89 à 93

- 1- Combien de nouveaux personnages rencontrent-ils en chemin ?
- 2- Comment s'appellent-ils ?
- 3- Que sont ils capables de faire ?
- 4- Un seul des 6 serviteurs n'est pas représenté dans les illustrations, lequel ?
- 5- Je le dessine.

8 **PROBLÈME** Complète la commande faite par la directrice de la crèche.

Article	Quantité	Prix à l'unité	Prix total
Paquet de couches	76	14 €	
Paquet de 4 tétines	24	12 €	
Boite de lait	19	15 €	
TOTAL			

8 **PROBLÈME** Complète la commande faite par la directrice de la crèche.

Article	Quantité	Prix à l'unité	Prix total
Paquet de couches	76	14 €	
Paquet de 4 tétines	24	12 €	
Boite de lait	19	15 €	
TOTAL			

8 **PROBLÈME** Complète la commande faite par la directrice de la crèche.

Article	Quantité	Prix à l'unité	Prix total
Paquet de couches	76	14 €	
Paquet de 4 tétines	24	12 €	
Boite de lait	19	15 €	
TOTAL			

8 **PROBLÈME** Complète la commande faite par la directrice de la crèche.

Article	Quantité	Prix à l'unité	Prix total
Paquet de couches	76	14 €	
Paquet de 4 tétines	24	12 €	
Boite de lait	19	15 €	
TOTAL			

8 **PROBLÈME** Complète la commande faite par la directrice de la crèche.

Article	Quantité	Prix à l'unité	Prix total
Paquet de couches	76	14 €	
Paquet de 4 tétines	24	12 €	
Boite de lait	19	15 €	
TOTAL			

8 **PROBLÈME** Complète la commande faite par la directrice de la crèche.

Article	Quantité	Prix à l'unité	Prix total
Paquet de couches	76	14 €	
Paquet de 4 tétines	24	12 €	
Boite de lait	19	15 €	
TOTAL			

Repérer le rang d'un nombre jusqu'à 9 999 (ex. 13)


13. Sabrina est monitrice de ski dans une grande station des Alpes. Cette saison, l'école de ski a compté qu'elle avait donné 3 600 heures de cours aux enfants. Le directeur annonce à Sabrina que toutes les heures après la trois-millième heure lui seront payées en heures supplémentaires. **Combien d'heures supplémentaires lui seront réglées ?**

.....

.....

Placer les nombres jusqu'à 9 999 sur une droite numérique graduée (ex. 14 et 15)

14. Place les nombres sur la droite numérique graduée.



15. Complète chaque case avec le nombre correspondant.

