

Orthographe

Exercice n° 1

Trouve la lettre finale muette de chaque nom ou adjectif.

un bra__	préci__	du san__	le bor__
le chahu__	parfai__	le plom__	un tron__
un poignar__	l'univer__	un complø__	un Anglais__

Exercice n° 2

Recopie et complète les mots inachevés. Justifie la lettre finale en trouvant un mot de la même famille.

- Attention à l'abu__ de sucre !
- Le maçon a apporté les sacs de ciment__.
- Ton texte est un peu confu__ mais intéressant__.
- Maman s'est achetée une nouvelle caisse à outi__s.
- N'ouvrez pas l'endo__ sans mon accord__.
- Cet athlète a réalisé un véritable exploit__ : un saut__ de plus de neuf mètres !
- Le maître nous demande de nous mettre en ran__s.
- Le marchand__ de meubles a consenti un rabai__ sur le transport__ et la livraison de ce canapé.

Dictée de mots

un article - un exposé - une explication - s'occuper
un sujet - clavi - une question - passionner - une
journaliste - alors - assez - auprès - aussi - autant
autour - autrefois - autrement - avant - beaucoup - bien
ça .

+ phrase suivante : Iris veut faire un exposé sur le
1300.

Prénom : Date :

4

GROTTES PRÉHISTORIQUES

UN ABRI NATUREL

Les premiers hommes préhistoriques sont nomades. Ils se déplacent sans cesse pour rechercher leur nourriture : des fruits, du gibier, du poisson... Ils campent à l'entrée des grottes souvent près d'un point d'eau. Placés en hauteur, ces abris sous roche sont faciles à défendre. Ce sont de bons postes d'observation. Ils permettent de se protéger du vent, de la pluie, du soleil, du froid et des animaux.

DES GROTTES PEINTES

À la fin de la préhistoire, les hommes ne sont plus nomades. Ils ne se servent plus des grottes pour s'y abriter. Mais ils utilisent les parois rocheuses pour peindre et graver des figures géométriques, des animaux (chevaux, mammouths, aurochs, bisons, rennes, ours...) et parfois des êtres humains. Ils fabriquent les couleurs des peintures avec des produits naturels : des végétaux broyés, des pierres ou du charbon de bois. La raison pour laquelle ces peintures ont été réalisées reste un mystère.



Peinture rupestre dans la grotte de Lascaux.

Colorie les sous-titres du document.

Un abri naturel

Des grottes habitées

Un abri sous roche

Des grottes peintes

3 Réponds.

Où les hommes préhistoriques nomades campent-ils ?

.....
.....
.....

De quoi les abris permettent-ils de se protéger ?

.....
.....

4 Relie.

des hommes *

* naturels

des figures *

* rocheuses

des parois *

* géométriques

des êtres *

* broyés

des produits *

* humains

des végétaux *

* préhistoriques

5 Entoure ce qui est vrai.

À la fin de la préhistoire, les hommes sont nomades.
ne sont plus nomades.


La raison pour laquelle les peintures ont été faites reste un mystère.
est parfaitement connue.

6 Écris les noms des animaux cités dans le document.


.....
.....

Objectif : Je sais lire les heures et les minutes.


1. Écris les heures de ces horloges de deux manières différentes comme dans l'exemple.




5 h 40 min
6 heures moins vingt




..... h min




..... h min




..... h min




..... h min



..... h min

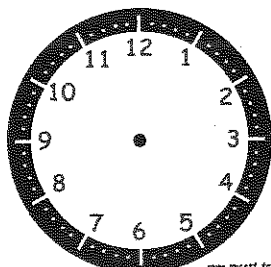


..... h min

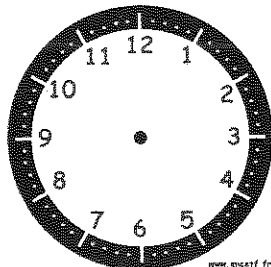


..... h min


2. Place les aiguilles selon les heures indiquées.



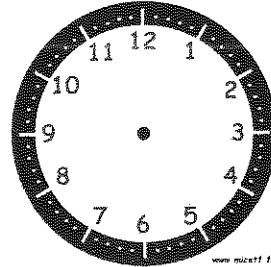
13 h 40 min




8 heures moins vingt-cinq



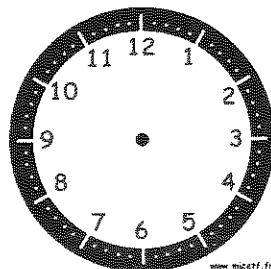
2 heures moins le quart




15 h 55 min




7 heures moins dix



22 h 35 min



Midi moins le quart



16 heures moins vingt

- 10 Un orchestre est composé de :
- 64 instruments à cordes ;
 - 16 instruments de la famille des bois ;
 - 5 cuivres ;
 - 1 clavier.

Combien d'instruments y a-t-il dans cet orchestre ?

11 Pendant les vacances, Mika va à la piscine chaque jour pendant les 31 jours du mois de juillet. Elle paye l'entrée 3 €.

- a. Quelle somme dépense-t-elle en 31 jours ?
- b. Au début des vacances, elle possédait 100 € pour payer ses entrées. Quelle somme lui reste-t-il à la fin du mois de juillet ?




12 En France, entre 1970 et 2008, la consommation moyenne d'eau minérale par an et par personne a augmenté de 112 litres. En 2008, cette consommation était de 151 litres.

Quelle était la consommation moyenne d'eau minérale par an et par personne en France, en 1970 ?

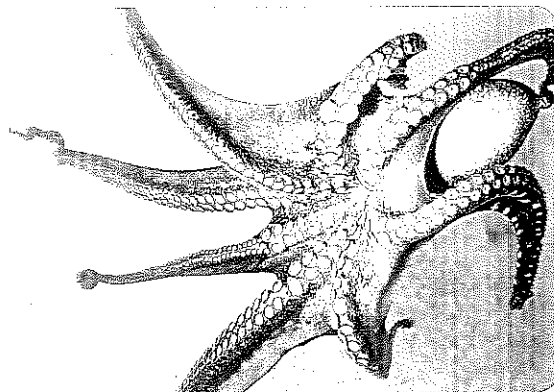
13 M. Lélevage a deux chevaux et trois vaches. Chacun de ses chevaux boit chaque jour 30 litres d'eau. Chacune de ses vaches boit chaque jour 80 litres d'eau.

Combien de litres d'eau M. Lélevage doit-il avoir dans son abreuvoir chaque jour ?



14 Sur ses 8 tentacules, une pieuvre possède au total 16 centaines de ventouses.

Combien de centaines de ventouses a-t-elle environ sur chaque tentacule ?



15 Camille achète une carte de cinéma de 4 entrées au prix de 24 €.

- a. Quel est le prix d'une entrée avec la carte de Camille ?
- b. Une place de cinéma au tarif normal coûte 9 €. Grâce à sa carte, quel est le montant de l'économie réalisée par Camille pour une entrée ?
- c. Quel est le montant de l'économie réalisée par Camille pour 4 entrées ?

16 Noan paie 74 € pour l'achat d'un porte-clés à 2 € et de 6 DVD.

Quel est le prix d'un DVD ?

17 La planète naine Pluton fait un tour sur elle-même en six jours.

- a. Combien de tours complets Pluton peut-elle faire en 126 jours ?
- b. En 131 jours, combien de jours manque-t-il à Pluton pour effectuer un tour supplémentaire ?

