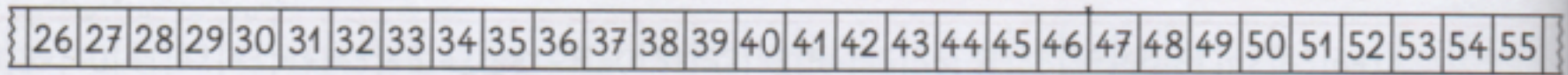
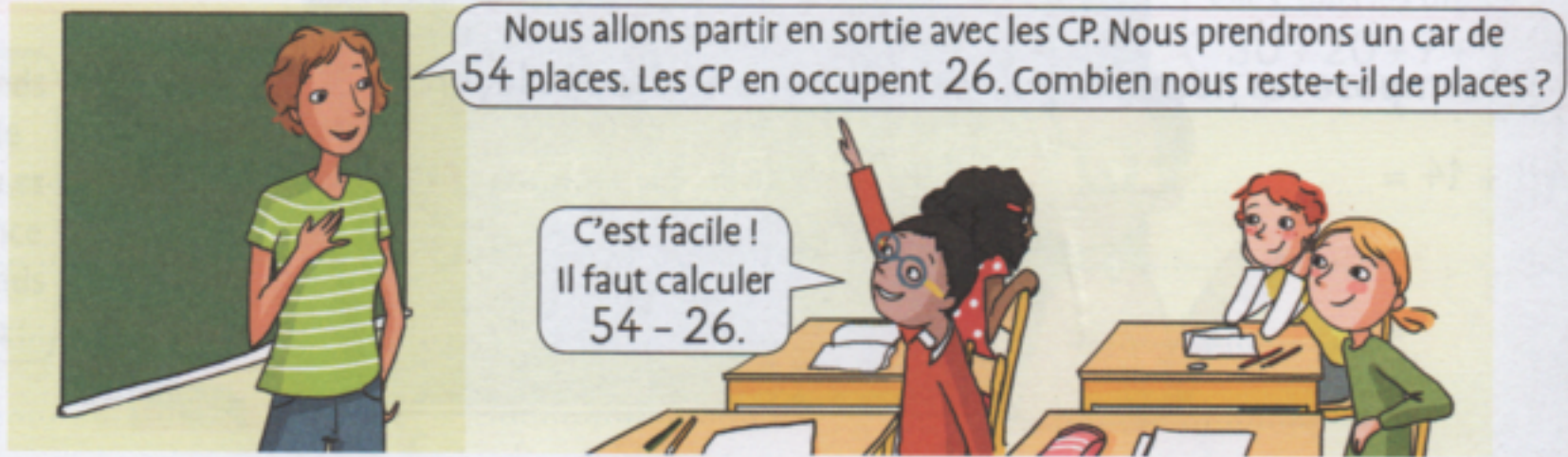


# Soustraire deux nombres en ligne

## Cherchons

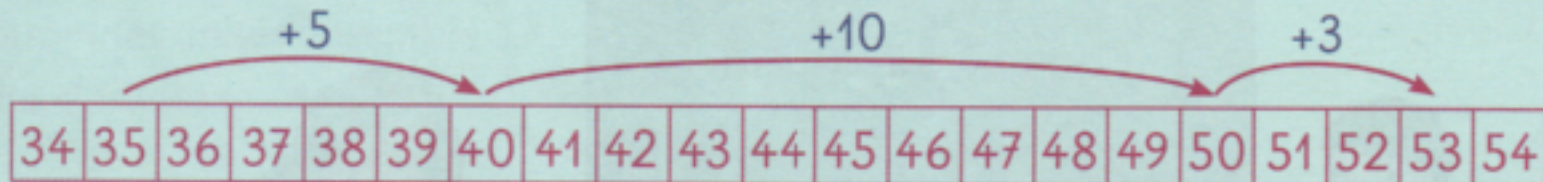


- Que penses-tu de l'opération proposée par Nabil ?
- Peux-tu l'aider à faire son calcul ?

## Je retiens

- Pour **soustraire en ligne**, je peux :

- utiliser la bande numérique : Ex. :  $53 - 35 = \dots$



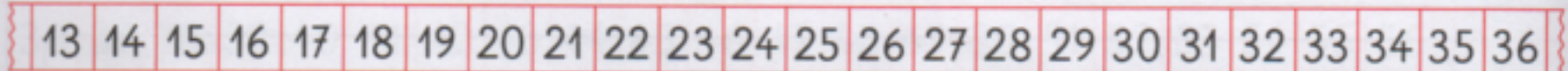
- utiliser une addition à trous : Ex. :  $53 - 35 = \dots$

$$\begin{aligned} &\rightarrow 35 + \dots = 53 \\ &35 + 10 + 5 + 3 = 53 \\ &\quad \quad \quad \underbrace{\hspace{2cm}} \\ &\quad \quad \quad 18 \end{aligned}$$

## Je m'entraîne

1 Utilise la bande numérique pour calculer :

a.  $36 - 23 = \dots$



b.  $54 - 32 = \dots$

