

Prénom : \_\_\_\_\_

Date: \_\_\_\_\_

**Nombres et quantités : de 0 à 999**

3  15

1 Complète avec <, > ou =:

202 .....  $100 + 20$

467 .....  $400 + 70$

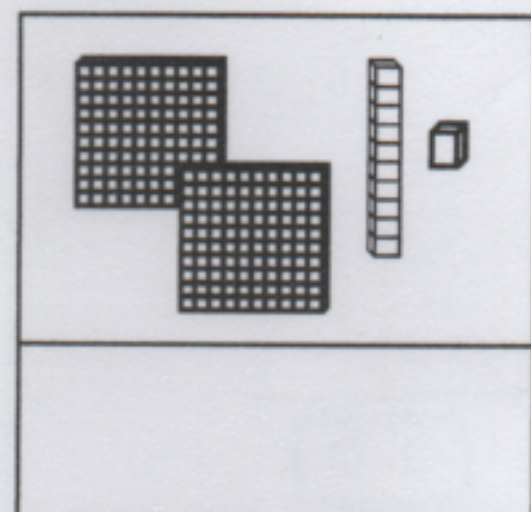
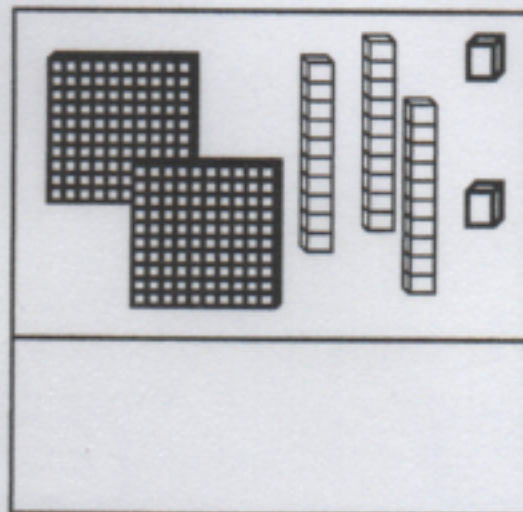
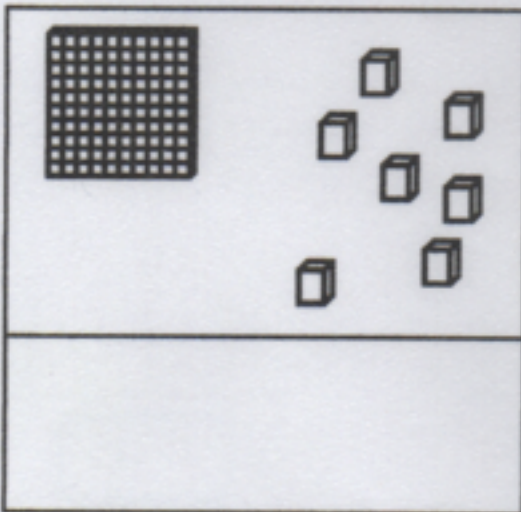
338 .....  $300 + 80 + 8$

630 .....  $600 + 30$

256 .....  $300 + 60 + 5$

375 .....  $100 + 100 + 100$

2 Compte et complète :



3 Ecris les nombres du plus grand au plus petit:

655 - 816 - 565 - 154 - 96 - 810 - 500

□ □ □ □ □ □ □

4 Complète :

